

RECORDAMOS LOS SERES VIVOS:

PLANTAS




ANIMALES



HUMANOS



PINTO EL ÁRBOL. DIBUJO UN SOL DONDE ESTÁ LA HIERBA Y UN PAJARITO DONDE ESTÁ EL ARBUSTO.



Matemáticas



Familia del 50.

Escribe su nombre con letras



3 OBSERVÁ LAS IMÁGENES. LEÉ Y ESCRIBÍ EL NÚMERO QUE CORRESPONDA.



1 LOS ÁRBOLES TIENEN UN TALLO AITO, GRUESO Y DURO LLAMADO "TRONCO". DEL TRONCO NACEN RAMAS QUE FORMAN LA COPA.

2 LAS HIERBAS TIENEN TALLOS BAJITOS, FINITOS Y BLANDOS. SON PLANTAS PEQUEÑAS.

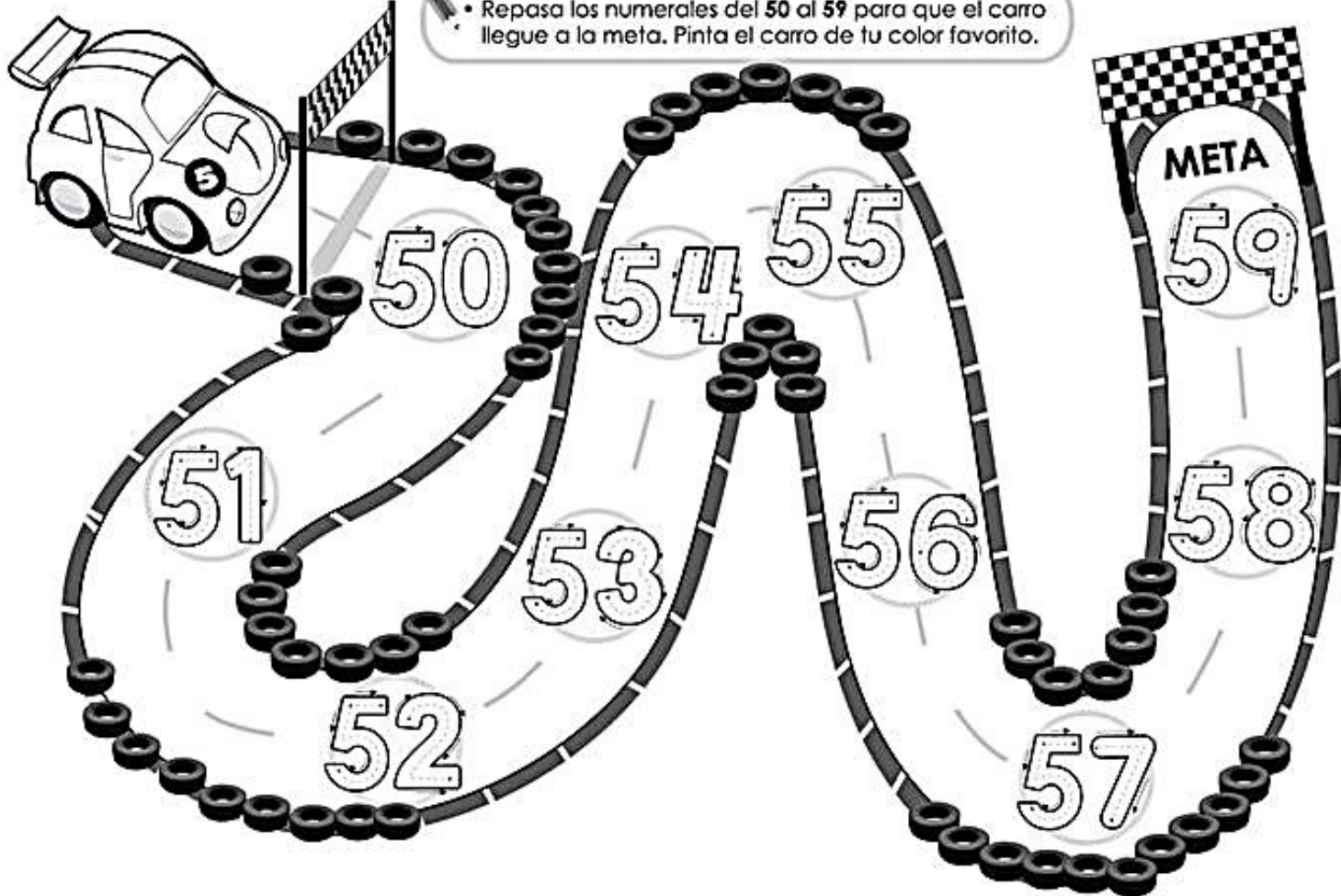
3 LOS ARBUSTOS SON MÁS PEQUEÑOS QUE LOS ÁRBOLES Y SUS RAMAS NACEN MUY CERCA DEL SUELO.

Nombre:

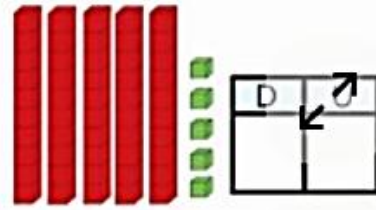
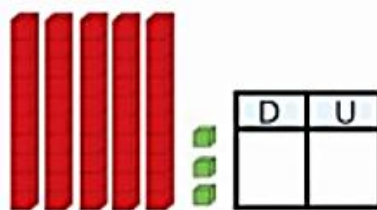
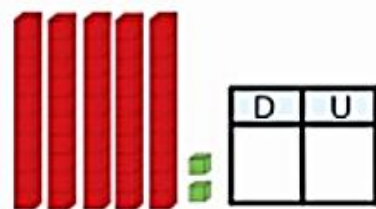
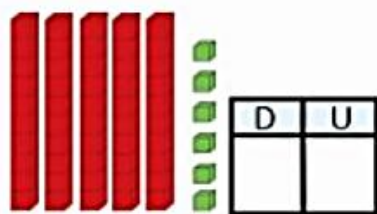
Fecha:

Números del 50 al 59

• Repasa los numerales del 50 al 59 para que el carro llegue a la meta. Pinta el carro de tu color favorito.



Escribe las cantidades representadas en los gráficos





¡AL GALOPE!

DIBUJA EN CADA POTRILLO TANTAS MANCHAS COMO TIENE EL PRIMERO. ¿CUÁNTAS MANCHAS HAY EN TOTAL? COLOREA EL NÚMERO Y DELINEA SU NOMBRE. REPASA CON COLOR LOS NÚMEROS DE LA FAMILIA DEL CINCUENTA.

50


CINCUENTA



50 - 51 - 52 - 53 - 54 - 55 - 56 - 57 - 58 - 59

UN JUEGO CALCULADO

LOS CHICOS JUEGAN A ESCRIBIR NÚMEROS EN LA CALCULADORA. GANARÁ EL QUE CUMPLA CON LA CONSIGNA. PINTÁ LA CALCULADORA GANADORA.




GANA EL NÚMERO MAYOR.



GANA EL NÚMERO MENOR.



GANA EL NÚMERO MÁS PRÓXIMO AL 60.




Número Anterior

Número Posterior

| | | |
|--|--------|--|
| | ← 53 → | |
| | ← 59 → | |
| | ← 52 → | |
| | ← 58 → | |
| | ← 54 → | |

| | | | | | |
|--|---|----------------------|--|---|----------------------|
| | = | <input type="text"/> | | = | <input type="text"/> |
| | = | <input type="text"/> | | = | <input type="text"/> |
| | = | <input type="text"/> | | = | <input type="text"/> |
| | = | <input type="text"/> | | = | <input type="text"/> |
| | = | <input type="text"/> | | = | <input type="text"/> |

Familia de 50




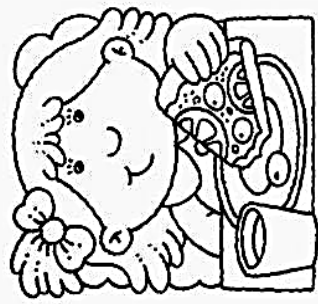



| | |
|-------|----------------------|
| 50+0= | <input type="text"/> |
| 50+1= | <input type="text"/> |
| 50+2= | <input type="text"/> |
| 50+3= | <input type="text"/> |
| 50+4= | <input type="text"/> |
| 50+5= | <input type="text"/> |
| 50+6= | <input type="text"/> |
| 50+7= | <input type="text"/> |
| 50+8= | <input type="text"/> |
| 50+9= | <input type="text"/> |



¿QUÉ HACEN? ¿DÓNDE?

DEBAJO DE CADA DIBUJO DESCRIBE QUÉ HACE CADA UNO DE ESTOS CHICOS. PUEDES INVENTAR UN NOMBRE PARA CADA UNO DE ELLOS.





_____.



LA NENA _____ JUEGA AL TENIS _____.




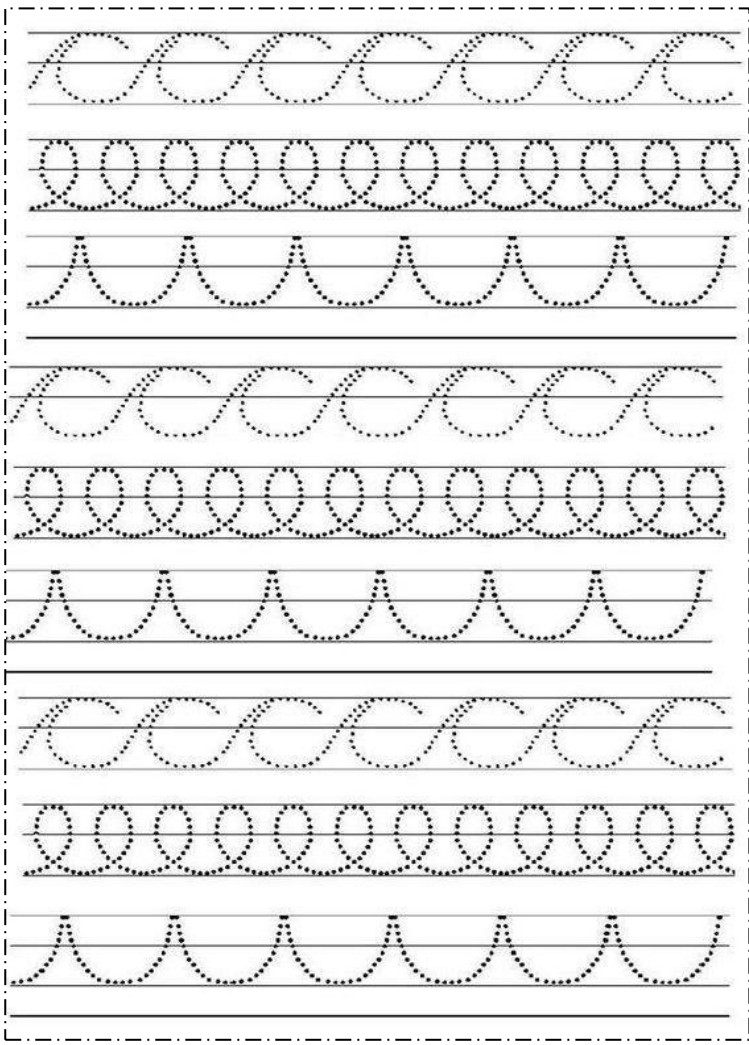
TOMÁS _____ LE TIRÓ LA PELOTA _____ A SU PERRO



_____.



_____.



TE VOY A CONTAR ESTE CUENTO
DE LA ZAPATILLA ROTA.
SE ATA SOLA LOS CORDONES
PORQUE DICE "SOY GRANDOTA".



HABÍA UN COCODRILO
QUE NADAR NO SABÍA
TAMPOCO HACER LA PLANCHA
POR ESO EL PREFERÍA
ANDAR SIEMPRE EN LANCHAS.



TE CONTARE EL LINDO CUENTO
DE LA LAPICERA ROJA.
QUE SI LLUEVE USA PARAGUAS
PORQUE ASÍ NO SE MOJA.



HABÍA UNA VEZ UN FANTASMA
QUE VIVIA EN UNA TAZA
PERO CADA DESAYUNO
SE QUEDABA SIN SU CASA.