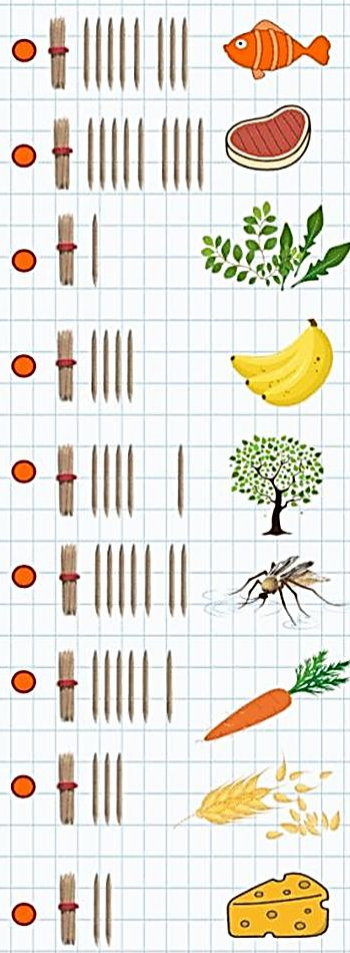


-  14 ●
-  15 ●
-  18 ●
-  11 ●
-  19 ●
-  13 ●
-  17 ●
-  12 ●
-  16 ●



RECORDAMOS LOS SERES VIVOS:

PLANTAS




ANIMALES



HUMANOS



PINTO EL ÁRBOL. DIBUJO UN SOL DONDE ESTÁ LA HIERBA Y UN PAJARITO DONDE ESTÁ EL ARBUSTO.



## Matemáticas



Familia del 50.

Escribe su nombre con letras



3 OBSERVA LAS IMÁGENES. LEÉ Y ESCRIBÍ EL NÚMERO QUE CORRESPONDA.



1 LOS ÁRBOLES TIENEN UN TALLO AITO, GRUESO Y DURO LLAMADO "TRONCO". DEL TRONCO NACEN RAMAS QUE FORMAN LA COPA.

2 LAS HIERBAS TIENEN TALLOS BAJITOS, FINITOS Y BLANDOS. SON PLANTAS PEQUEÑAS.

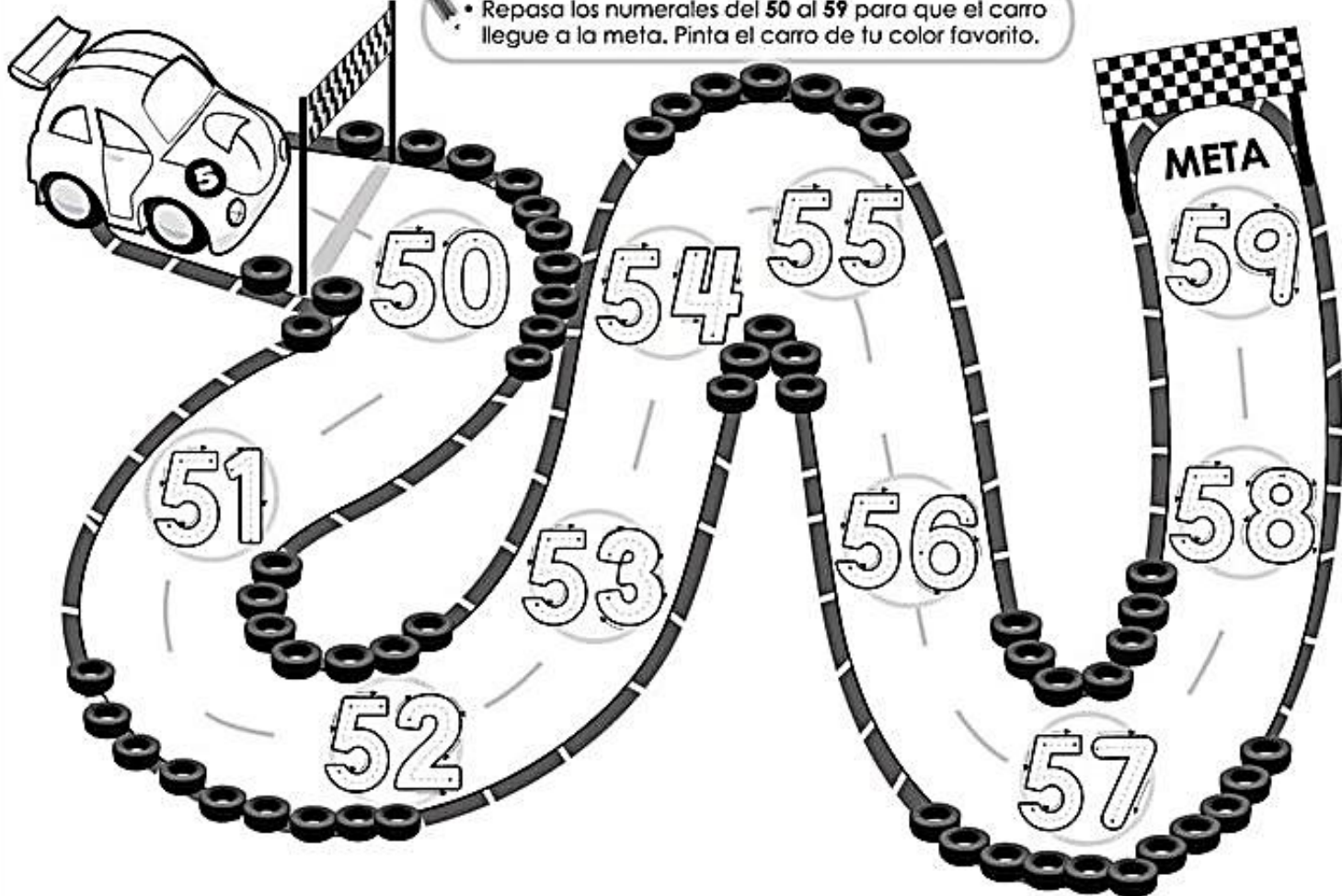
3 LOS ARBUSTOS SON MÁS PEQUEÑOS QUE LOS ÁRBOLES Y SUS RAMAS NACEN MUY CERCA DEL SUELO.

Nombre:

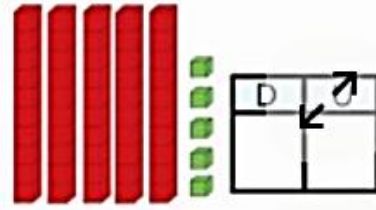
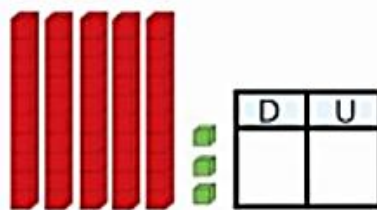
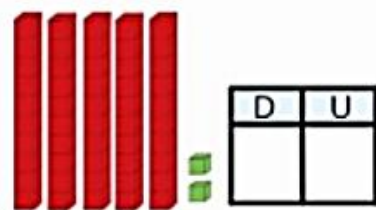
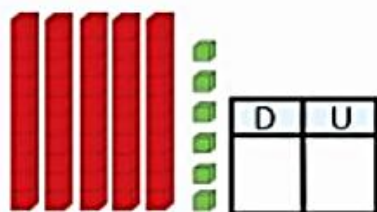
Fecha:

# Números del 50 al 59

• Repasa los numerales del 50 al 59 para que el carro llegue a la meta. Pinta el carro de tu color favorito.



Escribe las cantidades representadas en los gráficos





# ¡AL GALOPE!

DIBUJA EN CADA POTRILLO TANTAS MANCHAS COMO TIENE EL PRIMERO. ¿CUÁNTAS MANCHAS HAY EN TOTAL? COLOREA EL NÚMERO Y DELINEA SU NOMBRE. REPASA CON COLOR LOS NÚMEROS DE LA FAMILIA DEL CINCUENTA.

# 50


CINCUENTA



50 - 51 - 52 - 53 - 54 - 55 - 56 - 57 - 58 - 59

## UN JUEGO CALCULADO

LOS CHICOS JUEGAN A ESCRIBIR NÚMEROS EN LA CALCULADORA. GANARÁ EL QUE CUMPLA CON LA CONSIGNA. PINTÁ LA CALCULADORA GANADORA.




GANA EL NÚMERO MAYOR.



GANA EL NÚMERO MENOR.



GANA EL NÚMERO MÁS PRÓXIMO AL 60.




Número Anterior

Número Posterior

	← 53 →	
	← 59 →	
	← 52 →	
	← 58 →	
	← 54 →	

	=	<input type="text"/>		=	<input type="text"/>
	=	<input type="text"/>		=	<input type="text"/>
	=	<input type="text"/>		=	<input type="text"/>
	=	<input type="text"/>		=	<input type="text"/>
	=	<input type="text"/>		=	<input type="text"/>




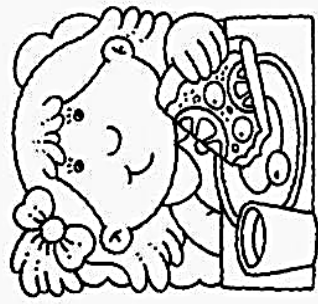


Familia de 50



50+0=	<input type="text"/>
50+1=	<input type="text"/>
50+2=	<input type="text"/>
50+3=	<input type="text"/>
50+4=	<input type="text"/>
50+5=	<input type="text"/>
50+6=	<input type="text"/>
50+7=	<input type="text"/>
50+8=	<input type="text"/>
50+9=	<input type="text"/>



¿QUÉ HACEN? ¿DÓNDE?  
 DEBAJO DE CADA DIBUJO DESCRIBE QUÉ HACE CADA UNO DE ESTOS CHICOS. PUEDES INVENTAR UN NOMBRE PARA CADA UNO DE ELLOS.





\_\_\_\_\_.



LA NENA \_\_\_\_\_ JUEGA AL TENIS \_\_\_\_\_.




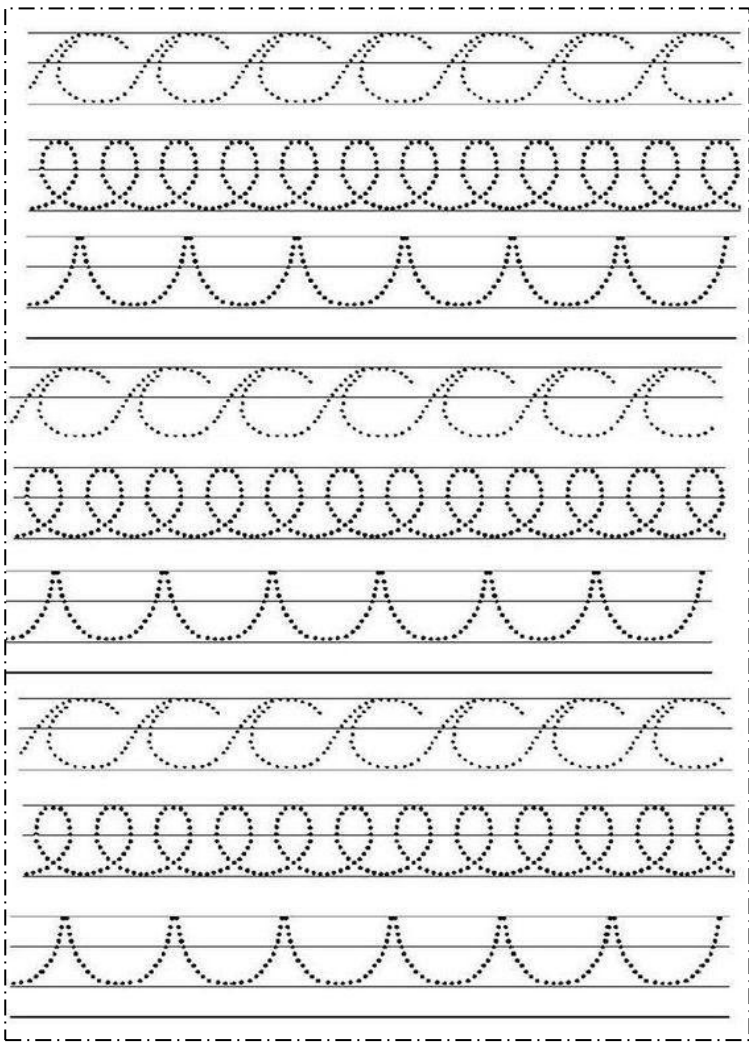
TOMÁS \_\_\_\_\_ LE TIRÓ LA PELOTA \_\_\_\_\_ A SU PERRO



\_\_\_\_\_.



\_\_\_\_\_.



TE VOY A CONTAR ESTE CUENTO  
DE LA ZAPATILLA ROTA  
SE ATA SOLA LOS CORDONES  
PORQUE DICE "SOY GRANDOTA".



HABÍA UN COCODRILO  
QUE NADAR NO SABÍA  
TAMPOCO HACER LA PLANCHA  
POR ESO EL PREFERÍA  
ANDAR SIEMPRE EN LANCHAS.



TE CONTARE EL LINDO CUENTO  
DE LA LAPICERA ROJA  
QUE SI LLUEVE USA PARAGUAS  
PORQUE ASÍ NO SE MOJA.



HABÍA UNA VEZ UN FANTASMA  
QUE VIVIA EN UNA TAZA  
PERO CADA DESAYUNO  
SE QUEDABA SIN SU CASA.