

DUERME. OSO EL

LA PELOTA VERDE.

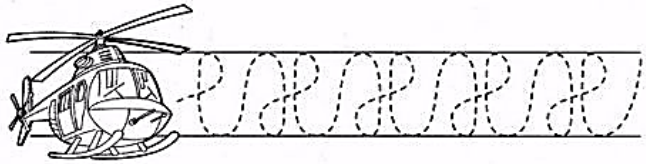
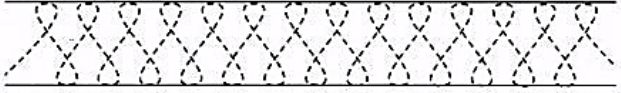
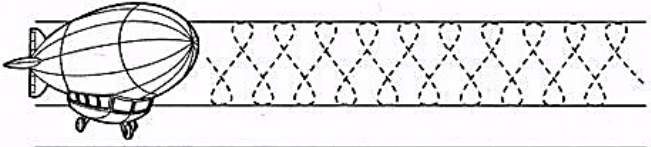
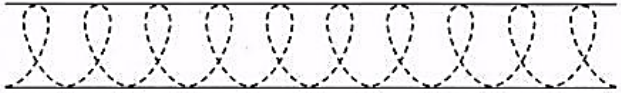
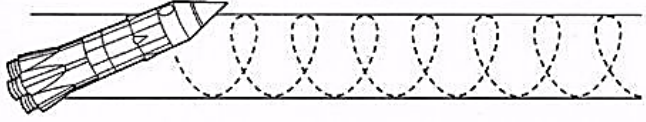
FIESTA LA DIVERTIDA.

COME. EL PATO



LAS ORACIONES EMPIEZAN CON

Y TERMINAN CON



TENGO EL NÚMERO
SESENTA Y TRES, PERO NO
SÉ CUÁL DE LOS DOS
NÚMEROS TACHAR.

63

36



Familia
de 60

60+0=

60+1=

60+2=

60+3=

60+4=



60+5=

60+6=

60+7=

60+8=

60+9=



NUEVOS NÚMEROS SE ACERCAN

COMPLETÁ, DE 1 EN 1, ESTAS SERIES DE NÚMEROS.

50

60

¿QUÉ NÚMERO ES?

DESCUBRILLO, PINTALO Y ESCRIBÍ SU NOMBRE.

TIENE UN 5.
NO ES EL MÁS
GRANDE. TIENE SÓLO
UNA UNIDAD.

NO ES EL MENOR.
TAMPOCO EL
MAYOR.

51 - 59 - 49

63 - 53 - 36

HOY ES:



De flor en flor

Esta mariposa vuela sobre las flores, que tienen números entre el 59 y el 69. Mirá con atención y pintalas.

67, 65, 63, 62, 66, 64, 60, 52, 45, 46, 68

Ordená de menor a mayor los números que no pintaste.

Elegí tres números de las flores pintadas y escribí cómo se llaman.



▶ LEÉ O ESCUCHÁ ESTE POEMA.

MI TORTUGA

TENGO UNA TORTUGA
VIEJA Y ARRUGADA
QUE TODOS LOS DÍAS
ALMUERZA ENSALADA.

TENGO UNA TORTUGA
QUE CAMINA LENTO
Y ESCONDE LA CARA
CUANDO SOPLA EL VIENTO.

TENGO UNA TORTUGA,
¡DUERME A TODA HORA!
YO TE LA PRESENTO,
SE LLAMA TEODORA.

MARÍA LORENA GONZÁLEZ

▶ RESPONDE LAS PREGUNTAS PINTANDO LAS RESPUESTAS CORRECTAS.

¿QUÉ COME LA TORTUGA?



PAPAS FRITAS



ENSALADA



TALLARINES

¿POR QUÉ LA TORTUGA ESCONDE LA CARA?




PORQUE
TIENE SUEÑO




PORQUE
SOPLA EL
VIENTO

▶ ESCRIBÍ PALABRAS QUE EMPIECEN CON LA LETRA T.




R	A	I	Z	Ñ	F
Y	H	F	L	O	R
L	A	R	C	M	U
H	O	J	A	S	T
X	T	A	L	L	O

HABÍA UNA VEZ UNA 

GRACIELA MONTES
ELENA TORRES



loqueleo

HABÍA UNA VEZ UNA 

MUY LINDA QUE VIVÍA EN LO ALTO
DE LA  MÁS ALTA, EN

UN  INMENSO, TODO
RODEADO DE 





LA PRINCESA ERA MUY RICA
Y TENÍA DE TODO: CIEN PARES

DE    

QUINIENTOS     

Y DOS MIL    

TAMBIÉN TENÍA  

   , Y UN LAGO AZUL,

TODO LLENO DE   

Y MUCHOS SIRVIENTES QUE



LA  Y LA 

Y LE  EN LA BOCA.

PERO LA  ESTABA ABURRIDA.


ABURRIDA DE PROBARSE 


DE COMER     Y DE

TIRARLES PAN A LOS  

QUISO APRENDER A 

Y BAILÓ HASTA QUE SE LE

CANSARON LOS 

QUISO APRENDER A 



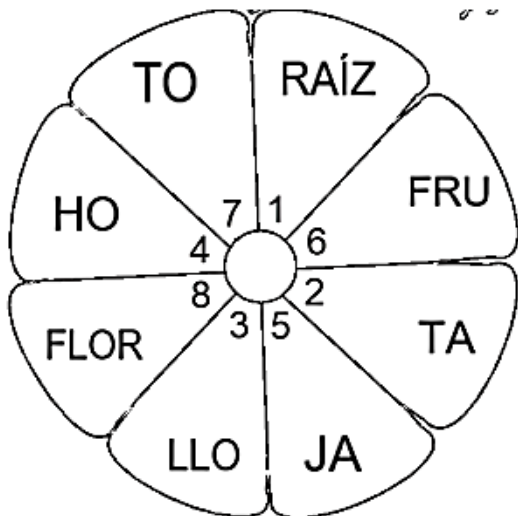
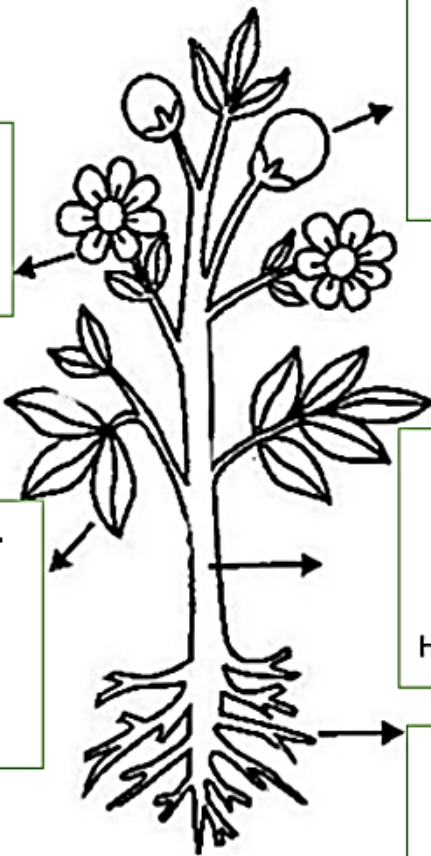
¡HOLA! SOY LA _____.
8
Y ME CONVIERTO EN FRUTO.

YO SOY EL _____.
6 7
DENTRO DE MÍ, ESTÁN LAS
SEMILLAS

YO SOY LA _____.
4 5
GRACIAS A MÍ, LA PLANTA
RECIBE LUZ Y RESPIRA.

YO SOY _____.
2 3
LLEVO EL AGUA HASTA LAS
HOJAS.

YO SOY LA _____.
1
SIN MÍ, LA PLANTA NO PODRÍA
TOMAR AGUA Y LOS
MINERALES.



EN CASA.

1- CON AYUDA, LEE LAS ORACIONES. LUEGO UNE Y RELACIONA CON LO TRABAJADO.

PARTE MÁS COLORIDA DE LA PLANTA.



ABSORVE EL AGUA Y LOS MINERALES
















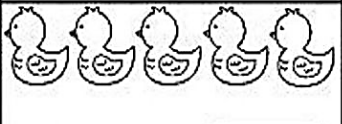
LLEVA AGUA HASTA LAS HOJAS. Y SIRVE COMO SOSTEN DE LA PLANTA.



PARTE POR DONDE RECIBE LUZ Y RESPIRA.



 $6 - 2 = \boxed{4}$	 $8 - 6 = \boxed{}$
 $4 - 1 = \boxed{}$	 $10 - 8 = \boxed{}$
 $5 - 4 = \boxed{}$	 $7 - 2 = \boxed{}$

 $4 - 2 = \boxed{}$	 $9 - 4 = \boxed{}$
 $8 - 3 = \boxed{}$	 $6 - 3 = \boxed{}$
 $10 - 4 = \boxed{}$	 $8 - 4 = \boxed{}$
 $7 - 3 = \boxed{}$	 $5 - 3 = \boxed{}$



12 de octubre
Día del Respeto a la Diversidad Cultural

No importa la raza,
 no importa el color,
 ni donde naciste,
 sexo o religión,
 no importa el idioma,
 ni la condición social.
**¡Queremos libertad
 y respeto cultural!**

ABECEDARIO

Vamos aprender sobre las letras

 **Las letras que no salen de casa**

a o u i m n tu e

u o u w u y

 **Las letras que tocan el cielo**

b d f h k l t

 **Las letras con piernas largas**

g j p q y

Recuerda respetar su lugar y no tendrás problemas

Diversidad

¿Qué es la diversidad cultural?



En mi casa todos sabemos tocar el piano.



En mi pueblo las mamás llevamos a los niños en la espalda.



En mi casa tenemos como costumbre comer pasta los domingos.



La gente de la comunidad donde yo vivo es conocida en el mundo entero por sus tejidos.



Yo hablo dos lenguas, el quechua y el castellano.



Para mi pueblo, la tierra es nuestra madre.



● Pensá y escribí.

El nombre de tu instrumento musical preferido.

Una costumbre de tu familia.

La actividad que más disfrutan en tu casa el fin de semana.

Tu comida favorita.

● Compartí tus respuestas con tus compañeros. ¿Todos escribieron lo mismo? ¿Por qué les parece que hay tanta variedad de respuestas?

ANITA ESTABA TRABAJANDO EN SU VIVERO, TENÍA 9 PLANTAS Y VENDIÓ 5 PLANTAS.

¿CUÁNTAS PLANTAS LE QUEDARON?

- TENÍA _____ PLANTAS.
- VENDIÓ _____ PLANTAS.
- LE QUEDAN _____ PLANTAS.

$$\square - \square = \square$$



Two children are standing on a white background. The girl on the left has dark hair and is wearing a pink shirt. The boy on the right has purple hair and is wearing a yellow shirt. They are both smiling. Between them is a large red minus sign. Two speech bubbles are above the sign: the left one says 'ESTE ES EL SIGNO MENOS.' and the right one says 'LO USAMOS PARA RESTAR'.

LA RESTA

Y SUS SENTIDOS

SEPARAR

ANTONIO TIENE UNA COLECCIÓN DE 9 AUTITOS. ALGUNOS ROJOS Y OTROS AZULES. SI 4 SON ROJOS, ¿CUÁNTOS SON AZULES?

A boy with green hair is looking thoughtful, with a question mark above his head. He is surrounded by several toy cars, some red and some blue.
$$9 - 4 = 5$$

QUITAR SACAR

EN EL TARRO HABÍA 6 CARAMELOS Y MATEO SACÓ 3. ¿CUÁNTOS CARAMELOS QUEDARON?

A boy with brown hair is eating from a glass jar. He has a handful of colorful candies in his other hand.
$$6 - 3 = 3$$

RETROCEDER

ESTOY EN EL CASILLERO 7 Y RETROCEDO 3. ¿A QUÉ CASILLERO LLEGO?

A boy with dark hair is holding a board game piece. The board has numbers 1 through 8 and 30. A path of numbers is highlighted from 7 to 4.
$$7 - 3 = 4$$

PERDER

DELFINA TENÍA 12 FIGURITAS Y PERDIÓ 4 EN EL RECREO. ¿CUÁNTAS FIGURITAS LE QUEDARON?

A girl with red hair is looking sad and holding a white cloth. A green arrow points to the right, indicating she has lost something.
$$12 - 4 = 8$$